


Дорогие ребята ! Проверьте свои знания по математике

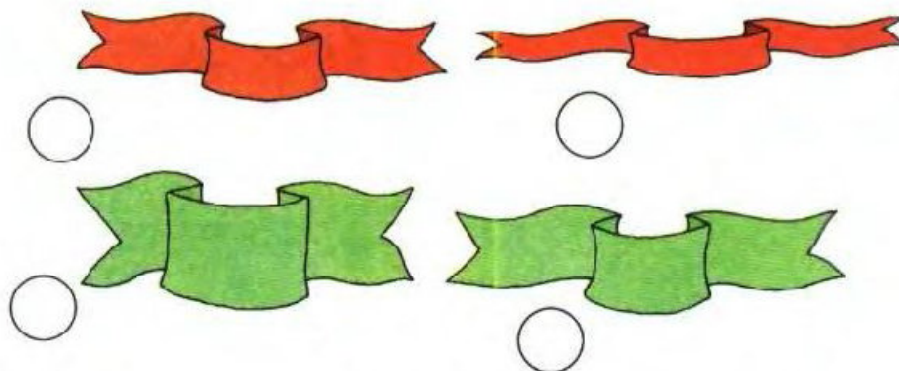
1. Найди деревья от самого высокого до самого низкого.

Помогите ребенку поставить номера по порядку.



Найди ленточки от самой широкой до самой узкой.

Помогите ребенку поставить номера по порядку.



Найди змеек от самой длинной до самой короткой.

Помогите ребенку поставить номера по порядку.



без ошибок



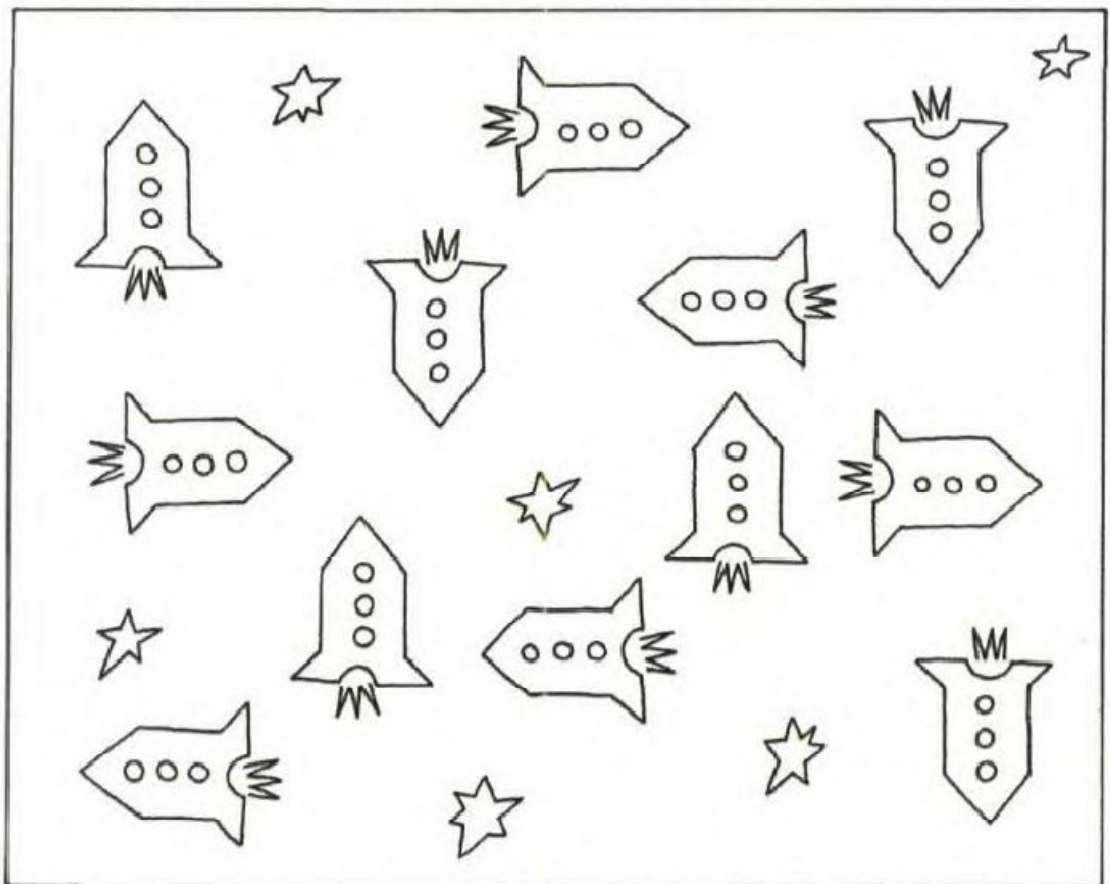
1 ошибка



2 ошибки и более



2. Раскрась звездолеты, которые летят вверх, красным цветом, вниз – синим, направо – зеленым, налево – желтым.



без ошибок



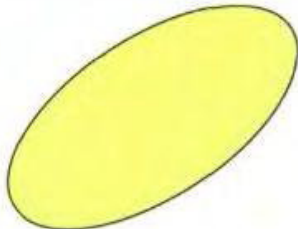

1 ошибка



2 ошибки и более



3. Назови все геометрические фигуры и скажи, какого они цвета.



без ошибок



ребенок ошибся при назывании овала и ромба



ребенок ошибся при назывании и других фигур



Иногда при тестировании в школе ребенка могут попросить назвать и более сложные фигуры. Ребенок должен знать, как их называть.



шестиугольник



четыреугольник

4. Сосчитай зверей по порядку. Рассмотрни картинку и ответь на вопросы.



1. Который по счету заяц?
2. Которая по счету мышка?
3. Который по счету медведь?
4. Который по счету гусь?
5. Кто стоит после шестого?
6. Кто стоит перед девятым?
7. Кто стоит между четвертым и шестым?
8. Кто стоит между восьмым и десятым?



без ошибок.



1 – 2 ошибки.



3 ошибки и более



5. Продолжи ряды чисел.

Попросите ребенка посчитать дальше.

А 2, 4, 6... (до 10)

Б от 2 до 9

В от 8 до 3



справился со всеми заданиями без ошибок



допустил ошибки в одном задании



допустил ошибки в 2 и более заданиях



6. Вставь пропущенные числа.



без ошибок






1 ошибка



2 ошибки и более



7. Предложите ребенку вписать соседей чисел:



без ошибок



1 ошибка



2 ошибки и более



8. Расставь математические знаки: $>$, $<$, $=$

Если ваш ребенок не знаком с этими математическими знаками, то объясните ему их значение и расставьте эти знаки вместе с ним. Главное, чтобы ребенок правильно определял отношения "меньше", "больше" и "равно".

1	$<$	3
---	-----	---

2	$=$	2
---	-----	---

4	$<$	5
---	-----	---

6	$>$	2
---	-----	---

8	$=$	8
---	-----	---

9	$<$	10
---	-----	----

7	$>$	4
---	-----	---

5	$<$	8
---	-----	---



без ошибок



1– 2 ошибки



3 ошибки и более



9. Реши примеры.

$$2 + 1 = 3$$

$$3 + 4 = 7$$

$$2 + 3 = 5$$

$$4 - 1 = 3$$

$$3 + 1 = 4$$

$$5 - 2 = 3$$

$$4 + 2 = 6$$

$$3 - 3 = 0$$



не более 1 ошибки



2 – 3 ошибки



4 ошибки и более



10. Реши задачки, запиши их решения.

Главное, чтобы ребенок решил задачу. Дошкольник не всегда может записать решение. Объясните ему, как это делается.

А. На клумбе росло три тюльпана, два нарцисса.
Сколько всего цветов росло на клумбе?

--	--	--

Б. В вазе лежали четыре яблока и две груши.
Сколько всего фруктов лежало в вазе?

--	--	--

В. В гараже стояло восемь машин. Три из них уехали.
Сколько машин осталось в гараже?

--	--	--



Ребенок правильно решил все задачи.



Ребенок правильно решил 2 задачи.



Ребенок правильно решил 1 задачу или не смог решить ни одной.

